

ՄԻԱՄՆԱԿԱՆ ՔՆՆՈՒԹՅՈՒՆ

2022

ԱՇԽԱՐՀԱԳՐՈՒԹՅՈՒՆ

ԹԵՍՏ 3

Խմբի համարը

Նստարանի համարը

Հարգելի՛ դիմորդ

Խորհուրդ ենք տալիս առաջադրանքները կատարել ըստ հերթականության: Ուշադիր կարդացե՛ք յուրաքանչյուր առաջադրանք և պատասխանների առաջարկվող տարբերակները: Եթե Ձեզ չի հաջողվում որևէ առաջադրանքի անմիջապես պատասխանել, ժամանակը խնայելու նպատակով կարող եք այն բաց թողնել և դրան անդրադառնալ ավելի ուշ:

Ձեր առջև դրված թեստ-գրքույկի էջերի դատարկ մասերը ազատորեն կարող եք օգտագործել սևագրության համար: ***Թեստ-գրքույկը չի ստուգվում: Ստուգվում է միայն պատասխանների ձևաթուղթը:***

Առաջադրանքները կատարելուց հետո չմոռանաք պատասխանները ուշադիր և խնամքով նշել պատասխանների ձևաթղթում: Պատասխանների ձևաթղթի ճիշտ լրացումից է կախված Ձեր քննական միավորը:

Մաղթում ենք հաջողություն:

1

Աշխարհագրական թաղանթի համեմատաբար ոչ մեծ տարածք զբաղեցնող տեղամասերը՝ բնատարածքային համալիրները, դրանց առաջացումը, կառուցվածքը և փոփոխություններն ուսումնասիրող գիտություն է.

- 1) լանդշաֆտագիտությունը
- 2) երկրաձևաբանությունը
- 3) հնեաշխարհագրությունը
- 4) կլիմայագիտությունը

2

Տեղանքում կարելի է կողմնորոշվել ծառերի.

- 1) տերևների գույնով
- 2) արմատներով
- 3) տերևների մեծությամբ
- 4) տարեկան օղակներով

3

Հորիզոնի α ր կողմի ազիմուտն է 90° :

- 1) հյուսիսային
- 2) արևմտյան
- 3) հարավային
- 4) արևելյան

4

Ω ր պնդումն է ճիշտ:

- 1) Հատակագիծը չունի միջօրեականներ և գուգահեռականներ:
- 2) Հատակագծում ռելիեֆը պատկերվում է իզոբարերի օգնությամբ:
- 3) Հատակագիծն ունի միջին մասշտաբ:
- 4) Հատակագիծը պատկերում է մեծ տարածք:

5

Բնութագրումով որոշել վարկածը.

Ելակետ ընդունելով այդ վարկածը՝ գիտնականները եզրակացնում են, որ Երկրի վրա կուտակված հսկայածավալ ջուրն արտահոսել է ընդերքից, Երկրի տաքացումը՝ սկսվել կենտրոնից: Ո՞րն է այդ վարկածը

- 1) պատահարային
- 2) խորքային գրավիտացիոն
- 3) միգամածային
- 4) երկնաքարային

6

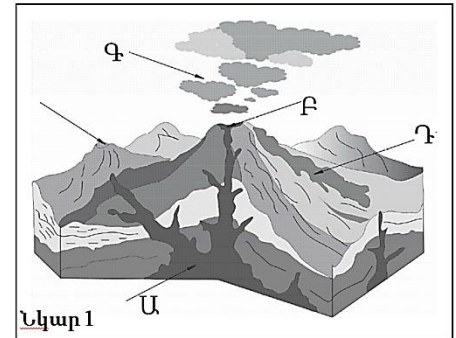
Ո՞ր պնդումն է ճիշտ:

- 1) Ամսաթվի փոփոխման գիծն անցնում է գլխավոր միջօրեականով:
- 2) Տոկիոյի գոտիական ժամանակն առաջ է Երևանի գոտիական ժամանակից:
- 3) Օրվա նույն ժամը կարող է լինել միայն նույն գուգահեռականի վրա:
- 4) Միջօրեականի վրա տվյալ պահին դիտված ժամանակը կոչվում է դեկրետային ժամանակ:

7

Նկար 1-ում ո՞ր տառով է նշված հրաբխի խառնարանը:

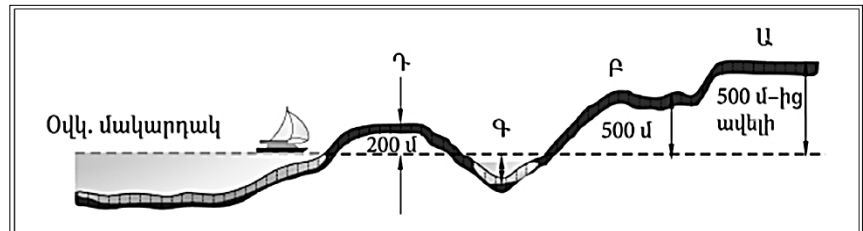
- 1) Գ
- 2) Դ
- 3) Ա
- 4) Բ



8

Նկար 2-ում ո՞ր հարթավայրն է նշված Ա տառով:

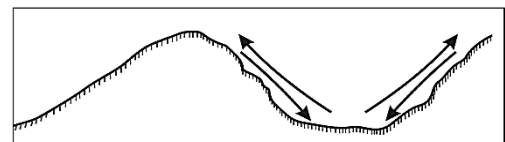
- 1) ցածրավայր
- 2) դաշտավայր
- 3) սարահարթ
- 4) բարձրավայր



9

Ո՞ր քամիներն են պատկերված նկար 3-ում:

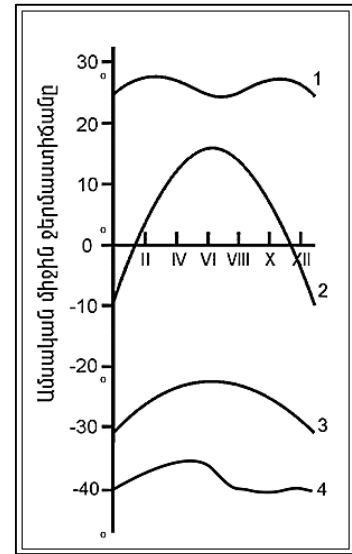
- 1) պասսատներ
- 2) լեռնահովտային քամիներ
- 3) բրիզներ
- 4) մուսսոններ



10

Նկար 4-ում n° թվով է նշված օդի ջերմաստիճանի տարեկան ընթացքի կորը հասարակածային լայնություններում:

- 1) 3
- 2) 4
- 3) 1
- 4) 2



Նկար 4

11

Համաշխարհային օվկիանոսի վերաբերյալ n° պնդումն է ճիշտ:

- 1) Ցունամիի առաջացման հիմնական պատճառը մշտական ուղղություն ունեցող քամիներն են:
- 2) Լուսնի ձգողական ուժի հետևանքով օրական երկու անգամ օվկիանոսի ջրի մակարդակի իջեցումը կոչվում է տեղատվություն:
- 3) Օվկիանոսի այն հատվածը, որը ներթափանցել է ցամաքի մեջ, կոչվում է նեղուց:
- 4) Առավել մեծ աղիություն ունեն հասարակածային գոտու ջրերը:

12

Գետի ակունքի բացարձակ բարձրությունը 2200 մ է, գետաբերանինը՝ 1000 մ, երկարությունը՝ 150 կմ: Գետի թեքությունը կլինի.

- 1) 15 մ/կմ
- 2) 8 մ/կմ
- 3) 12 մ/կմ
- 4) 6 մ/կմ

13

Աշխարհագրական թաղանթը մթնոլորտում տարածվում է.

- 1) մինչև օզոնի շերտ
- 2) մինչև ջերմոլորտ
- 3) մինչև ներքնոլորտ
- 4) մինչև վերնոլորտ

14

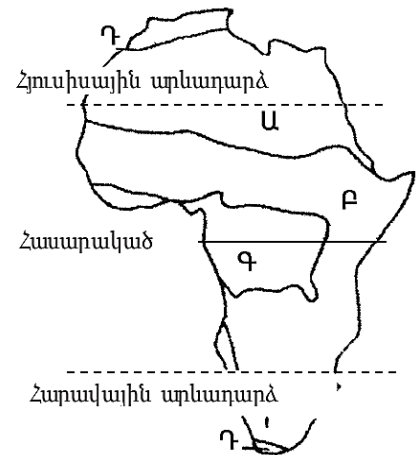
Մեկ խորանարդ մետր օդում պարունակվող ջրային գոլորշիների քանակը՝ արտահայտված գրամներով, կոչվում է.

- 1) չափեցած օդ
- 2) բացարձակ խոնավություն
- 3) հազեցած օդ
- 4) հարաբերական խոնավություն

15

Նկար 5-ում n° թվով է պատկերված միջերկրածովային մշտականաչ կոշտատերև անտառների և թփուտների զոնան:

- 1) Գ
- 2) Դ
- 3) Ա
- 4) Բ



16

Մավանաների բնական զոնան հիմնականում n° ի հողերի վրա է տարածվում:

- 1) պոդզոլային
- 2) դարչնագույն
- 3) լատերիտային
- 4) կարմրագորշ

17

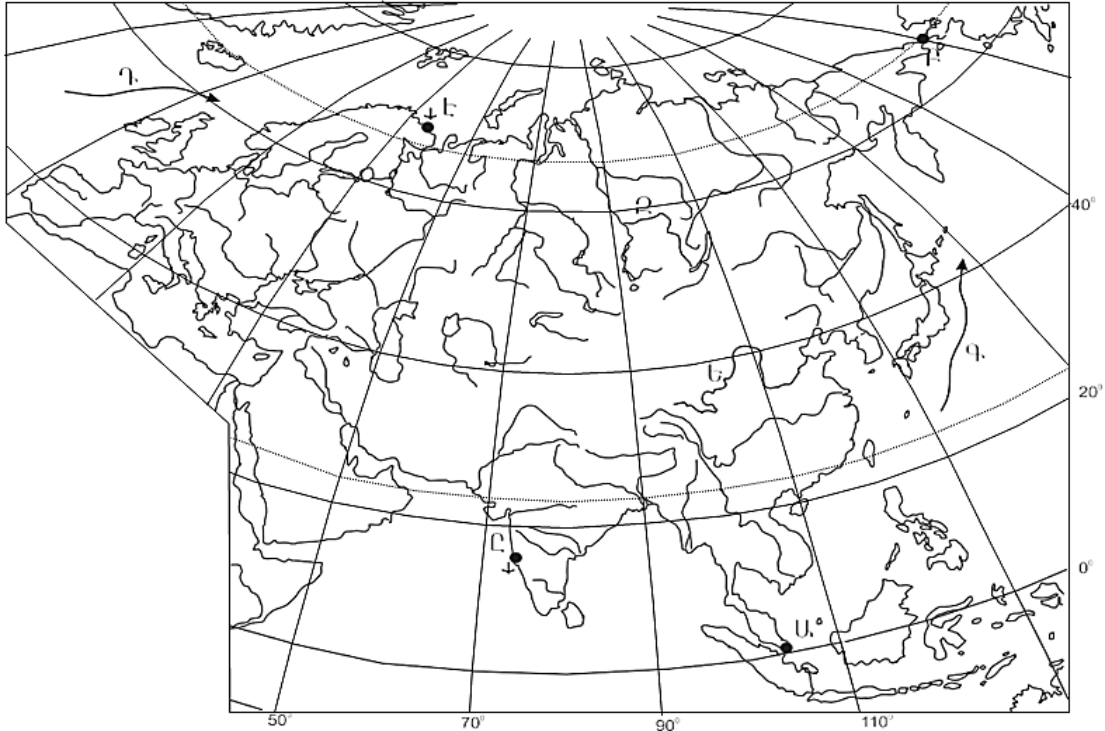
Քարտեզ 1-ում Դ տառով n° թվային հոսանքն է նշված:

- 1) Օյասիո
- 2) Հարավպասսատային
- 3) Կուրոսիո
- 4) Հյուսիսատլանտյան

18

Քարտեզ 1-ում L տառով n° նավահանգիստն է նշված:

- 1) Ադեն
- 2) Մումբայ
- 3) Չենայ
- 4) Կարաչի



Քարտեզ 1

19

Աֆրիկայի վերաբերյալ պնդումներից n° ըն է ճիշտ:

- 1) Մայրցամաքի վրա ձևավորվում է մթնոլորտային ճնշման չորս մարզ՝ երկու բարձր, երկու ցածր:
- 2) Կանարյան սառը հոսանքը մեծ դեր է խաղացել Սահարա անապատի առաջացման գործում:
- 3) Արևմուտքում գտնվող Կամերուն գործող հրաբուխը մայրցամաքի ամենախոնավ շրջանն է:
- 4) Կլիման ձևավորող գլխավոր գործոնը ռելիեֆն է:

20

Ω ը գետը դելտա չի առաջացնում:

- 1) Նեղոս
- 2) Նիգեր
- 3) Օբանժ
- 4) Կոնգո

21 Ո՞ր պնդումն է ճիշտ.

- 1) Հյուսիսային Ամերիկայում Միսսուրի գետը հորդանում է ձմռանը:
- 2) Հյուսիսային Ամերիկայում ամենամեծ տարածում ունի անապատների և կիսաանապատների զոնան:
- 3) Հյուսիսային Ամերիկայի հյուսիսային մասի մակերևույթի ձևավորման վրա մեծ ազդեցություն են թողել սառցադաշտերը:
- 4) Հյուսիսային Ամերիկան Գրենլանդիայից բաժանվում է Բերինգի նեղուցով:

22 Հյուսիսային Ամերիկայում չեն ապրում.

- 1) սպիտակ արջն ու լեմինգը
- 2) որմզդեղն ու բիզոնը
- 3) լաման ու նանդու ջայլամը
- 4) կարիբուն ու խոյացույր

23 Ո՞ր պնդումն է սխալ:

- 1) Կարիբյան ծովի ափերին կան նավթի հարուստ պաշարներ:
- 2) Լա Պլատայի դաշտավայրը շատ հարուստ է ոսկու պաշարներով:
- 3) Անդերը հարուստ է հատկապես պղնձի պաշարներով:
- 4) Բրազիլական և Գվիանական սարահարթերի հնագույն հիմքի բյուրեղային ապարները հարուստ են երկաթի և մանգանի պաշարներով:

24 Ո՞ր գետը Հարավային Ամերիկայում չէ:

- 1) Պարանա
- 2) Օրինոկո
- 3) Ամազոն
- 4) Հուանիե

25 Ո՞ր ծովը Ավստրալիայի ափերը չի ողողում:

- 1) Թասմանի
- 2) Արաֆուրյան
- 3) Բաֆինի
- 4) Կորալյան

26

Ո՞ր պնդումն է սխալ:

- 1) Ատարկտիդան ամբողջությամբ ընկած է հարավային բևեռային շրջագծի և Հարավային բևեռի միջև:
- 2) Անտարկտիդան Հրո երկիր կղզեխմբից բաժանվում է Դրեյկի լայն ու փոթորկոտ նեղուցով:
- 3) Անտարկտիկան մայրցամաք է, իսկ Անտարկտիդան՝ աշխարհամաս:
- 4) Անտարկտիդային ամենամոտ մայրցամաքը Հարավային Ամերիկան է:

27

Քաղաքական քարտեզի ձևավորման նորագույն ժամանակաշրջանի երկրորդ փուլի կարևոր իրադարձությունն է.

- 1) ԱՄՆ-ի կազմավորումը
- 2) ԽՍՀՄ-ի փլուզումը
- 3) ՆԱՏՕ-ի և ՎՊԵ-ի ստեղծումը
- 4) ԽՍՀՄ-ի կազմավորումը

28

Ո՞ր պնդումն է սխալ:

- 1) Երկրաչափական սահմանն ուղիղ գիծ է, որը միացնում է պետական սահմանի որոշակի կետեր՝ առանց հաշվի առնելու տեղանքի ռելիեֆային պայմանները:
- 2) Աշխարհագրական (աստղագիտական) սահմանը կարող է համընկնել այս կամ այն միջօրեականի կամ գուգահեռականի հետ:
- 3) Սահմանարկումը տեղանքում պետական սահմանի անցկացումն է, նրա աշխարհագրական կոորդինատների որոշումը, սահմանանշանների միջոցով սահմանագծի անցկացումը:
- 4) Լեռնագրական սահմանները գլխավորապես անցնում են բնական սահմաններով, հիմնականում՝ լեռնաշղթաներով ու գետերի հունով:

29

Ո՞ր պնդումն է ճիշտ.

- 1) Խորհրդարանական հանրապետությունում երկրի նախագահն ընտրվում է ոչ թե ժողովրդի, այլ խորհրդարանի կողմից:
- 2) Աշխարհի երկրների ճնշող մեծամասնության վարչատարածքային կառուցվածքը դաշնային է:
- 3) Միապետություններում երկրի օրենսդիր ու գործադիր իշխանությունների գործունեությունը ղեկավարում է նախագահը:
- 4) Միասնական պետության վարչատարածքային միավորներն ունեն որոշակի քաղաքական ինքնավարություն:

30

Ընտրել պետությունների ճիշտ շարքն՝ ըստ դրանց տարածքի մակերեսի աճման հաջորդականության.

- 1) Հնդկաստան, Բրազիլիա, Ավստրալիա, Կանադա
- 2) Կանադա, Չինաստան, ԱՄՆ, Բրազիլիա
- 3) Բրազիլիա, Ավստրալիա, Սուդան, Ղազախստան
- 4) ԱՄՆ, Չինաստան, Կանադա, Ռուսաստան

31 Ո՞ր երկիրն ունի 100 մլն-ից պակաս բնակիչ

- 1) Հնդկաստան
- 2) Ճապոնիա
- 3) Պակիստան
- 4) Գերմանիա

32 Բնակչության շարժի հետևանքով սերունդների հերթափոխման գործընթացը կոչվում է.

- 1) բնակչության վերարտադրություն
- 2) բնակչության մեխանիկական շարժ
- 3) բնակչության կազմ
- 4) բնակչության բնական աճ

33 Կյանքի միջին տևողությունը առավելապես պայմանավորված չէ.

- 1) միգրացիայի ինտենսիվությամբ
- 2) բարձր մահացությամբ
- 3) բնակչության ցածր կենսամակարդակով
- 4) բուժսպասարկման մակարդակով

34 Հնդկվրոպական լեզվաընտանիքի լեզվախումբ է.

- 1) սեմականը
- 2) իրանականը
- 3) չինականը
- 4) թուրքականը

35 Ո՞ր պնդումն է ճիշտ.

- 1) Պողպատի ձուլման ձեռնարկությունները կառուցվում են գիտական կենտրոնների մոտ:
- 2) Ջրաէլեկտրակայանները հիմնականում կառուցվում են հարթավայրային գետերի վրա:
- 3) Աէկներն ապահովում են աշխարհում արտադրվող էլեկտրաէներգիայի կեսից ավելին:
- 4) Ծանր գունավոր մետաղների ձուլումը կողմնորոշվում է դեպի հումքի բազաները:

36 Նյութական արտադրության ո՞ր ճյուղն է առավել աշխատատար ու գիտատար և տեղաբաշխված խոշոր քաղաքներում:

- 1) սննդի արդյունաբերություն
- 2) մեքենաշինություն
- 3) վառելիքի արդյունահանում
- 4) էլեկտրաէներգետիկա

37

«Հանքավայր-հանքատեսակ» գույգերից ընտրել ճիշտը.

- 1) Նորիլսկ-երկաթ
- 2) Մամոտլոր-նավթ
- 3) Սուրգուտ-ածուխ
- 4) Մագադան-գազ

38

Ընտրել «պետություն-մայրաքաղաք» համապատասխանությունների ճիշտ շարքը:

- | | |
|--------------|---------------|
| 1. Ուկրաինա | ա. Բրատիսլավա |
| 2. Բուլղարիա | բ. Սոֆիա |
| 3. Սլովակիա | գ. Բուխարեստ |
| 4. Ռումինիա | դ. Կիև |

- 1) 1-դ, 2-բ, 3-ա, 4- գ
- 2) 1-դ, 2-գ, 3-բ, 4-ա
- 3) 1-բ, 2-ա, 3-դ, 4-գ
- 4) 1-գ, 2-դ, 3-բ, 4-ա

39

Կենտրոնական Ասիայի տրված պետություններից ո՞րը չունի սահման Չինաստանի հետ:

- 1) Ղազախստան
- 2) Ղրղզստան
- 3) Ուզբեկստան
- 4) Տաջիկստան

40

«Մշակաբույս-մշակող առաջատար երկիր» գույգերից ընտրել ճիշտը:

- 1) սուրճ-Մարոկկո
- 2) կակաո-Ալժիր
- 3) գետնանուշ-Թունիս
- 4) մանիոկ-Նիգերիա

41

Ո՞ր կղզեխումբն է գտնվում Օվկիանիայում:

- 1) Ճապոնական
- 2) Կուրիլյան
- 3) Ֆիլիպիններ
- 4) Պոլինեզիա

42

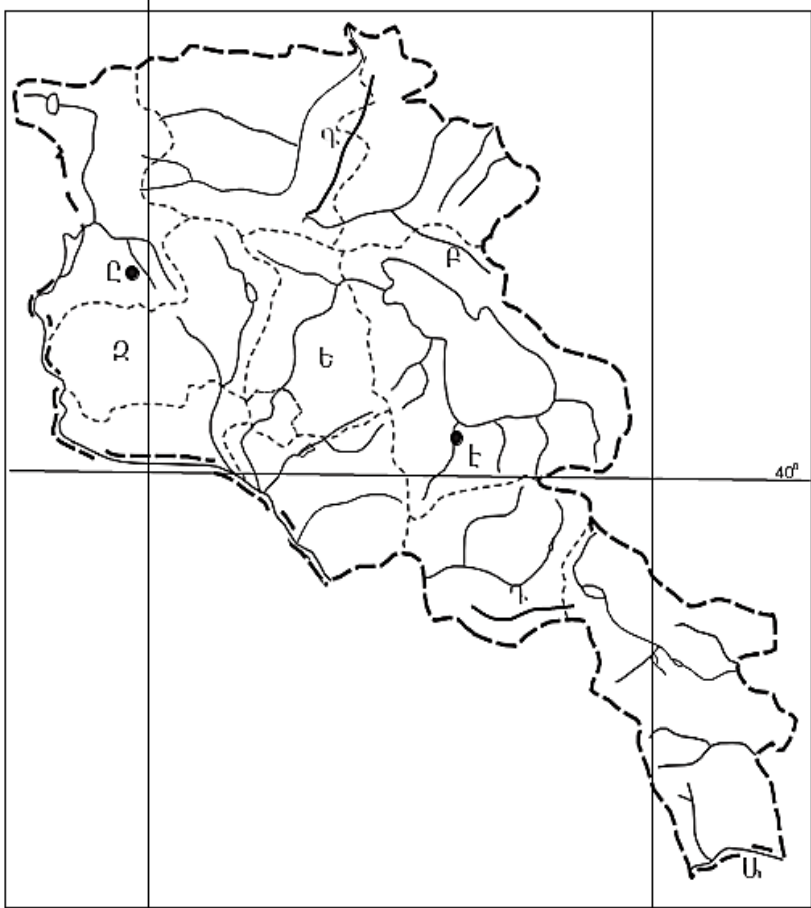
Ո՞ր քաղաքն է ԱՄՆ-ի ավտոմոբիլաշինության գլխավոր կենտրոնը:

- 1) Նյու Յորք
- 2) Հյուսթոն
- 3) Լոս Անջելես
- 4) Դեթրոյթ

43

Լատինական Ամերիկայում խոշոր եղջերավոր անասնապահության զարգացմամբ ո՞ր երկիրն է առաջատար:

- 1) Ուրուգվայ
- 2) Վենեսուելա
- 3) Պարագվայ
- 4) Արգենտինա



Քարտեզ 2

44

Քարտեզ 2-ում Արփա գետը ո՞ր տառով է նշված.

- 1) Դ
- 2) Ը
- 3) Է
- 4) Բ

45

Քարտեզ 2-ում Արագածոտնի մարզը ո՞ր տառով է նշված.

- 1) Գ
- 2) Ե
- 3) Զ
- 4) Ա

46

Լեռնագրական ո՞ր մարզը Միջնաշխարհի մեջ չի մտնում.

- 1) Ներքին Տավրոս
- 2) միջլեռնային գոգավորություններ
- 3) Փոքր Կովկաս
- 4) Հայկական հրաբխային բարձրավանդակ

47

ՀՀ Լոռու մարզի վերաբերյալ ո՞ր պնդումն է ճիշտ.

- 1) Ամենացածրադիր քաղաքը Վանաձորն է:
- 2) Ամենավոքր քաղաքը Տաշիրն է:
- 3) Բնակչության թվաքանակով զիջում է միայն Սյունիքի մարզին:
- 4) Քաղաքների թվով հանրապետությունում առաջինն է՝ ութ քաղաք:

48

Արդյունաբերական հանգույցներ են եղել.

- 1) Գյումրի և Վանաձոր
- 2) Միսիան և Գորիս
- 3) Մարտունի և Վարդենիս
- 4) Սևան և Գավառ

49

Սյունիքի մարզի վերաբերյալ ո՞ր պնդումն է ճիշտ.

- 1) Հողաբուսական ծածկույթը ենթարկվում է վերընթաց գոտիականության:
- 2) Հողածածկույթում բացակայում են լեռնային սևահողերը:
- 3) Հողածածկույթում տիրապետում են կիսաանապատային գորշ հողերը:
- 4) Հարավում տարածվում են աղուտներ:

50

ԼՂՀ –ի (Արցախի Հանրապետություն) վերաբերյալ ո՞ր պնդումն է սխալ.

- 1) Խաղողագործությունն առավել զարգացած է նախալեռնային գոտում:
- 2) Տեխնիկական մշակաբույսերից առավել տարածված է շաքարի ճակնդեղը:
- 3) Գյուղատնտեսության առաջատար ճյուղերն են հացահատիկի մշակությունն ու այգեգործությունը:
- 4) Թզենին և նոնենին առավել լավ հարմարվել են ցածրադիր շրջաններին:

51

Բնական և մարդածին այն օբյեկտները, որոնք ունեն եզակիություն, պատմական կամ գեղարվեստական արժեք, գեղագիտական գրավչություն, առողջարարական-կազդուրիչ նշանակություն և կարող են օգտագործվել հանգստի ու զբոսաշրջության կազմակերպման համար, կոչվում են.

- 1) հանքային ռեսուրսներ
- 2) կենսաբանական ռեսուրսներ
- 3) հողային ռեսուրսներ
- 4) ռեկրեացիոն ռեսուրսներ

52

ՀՀ մարմարի հետախուզված պաշարները կազմում են մոտ 21 մլն մ³, իսկ բնակչության թիվը՝ 3,2 մլն մարդ (2001 թ.): Մոտավորապես որքա՞ն կկազմի ռեսուրսաապահովվածությունը 1 բնակչի հաշվով:

- 1) 7,2 մ³/մարդ
- 2) 8,4 մ³/մարդ
- 3) 5,7 մ³/մարդ
- 4) 6,6 մ³/մարդ

53

Շրջակա միջավայրի վրա առավել շատ բացասական ազդեցություն է թողնում.

- 1) կոնյակի արտադրությունը
- 2) պղնձաձուլությունը
- 3) կարի արտադրությունը
- 4) սարքաշինությունը

54

Կենդանիների պահպանության միջոցառում է.

- 1) կլիմայավարժեցումը
- 2) առաջավոր ագրոտեխնիկայի կիրառումը
- 3) արոտաշրջանառությունը
- 4) ճահիճների և ճահճակալած հողերի չորացումը

55

Ո՞ր պնդումն է ճիշտ

- 1) Թթվային անձրևների առաջացման միակ պատճառը Արեգակի ուլտրամանուշակագույն ճառագայթներն են:
- 2) Օզոնային շերտի քայքայումը բնորոշ է միայն բարեխառն գոտուն:
- 3) Ջերմոցային էֆեկտը պայմանավորված է մթնոլորտում մեթանի և ածխաթթու գազի քանակի ավելացմամբ:
- 4) Օդում մեծ քանակությամբ փոշու առկայության պատճառով խոշոր քաղաքներում օդի ջերմաստիճանն ավելի ցածր է, քան դրանցից դուրս:

56

Տրված են աշխարհի նշանավոր լճեր: Գրել սառցադաշտային ծագում ունեցող լճերը

- | | |
|--------------|-------------------|
| 1) Մեծ արջի | 5) Վեներն |
| 2) Ինարի | 6) Մեծ աղի |
| 3) Կասպից | 7) Մեծ ստրուկների |
| 4) Իսիկ Կուլ | 8) Մեռյալ |

57

Գրել այն երկրների համարները, որոնք ներգամաքային են (ելք չունեն դեպի ծով).

- | | |
|------------|-------------|
| 1) Ավստրիա | 5) Պերու |
| 2) Լիբանան | 6) Չեխիա |
| 3) Եգիպտոս | 7) Պարագվայ |
| 4) Չադ | 8) Մեքսիկա |

58

Գրել այն երկրների համարները, որոնք առաջատար են ոչխարաբուծությամբ.

- | | |
|-------------|-----------------|
| 1) Լեհաստան | 5) Նոր Զելանդիա |
| 2) Ճապոնիա | 6) Իրան |
| 3) Կանադա | 7) Արգենտինա |
| 4) Գերմանիա | 8) Ուկրաինա |

59

Գրել այն երկրների համարները, որոնք թերակղզային են.

- | | |
|--------------------|----------------|
| 1) Ֆրանսիա | 5) Նիգերիա |
| 2) Սաուդյան Արաբիա | 6) Պորտուգալիա |
| 3) Արգենտինա | 7) Կոլումբիա |
| 4) Ճապոնիա | 8) Իտալիա |

60

Գրել այն երկրների համարները, որոնք ունեն անցումային տնտեսություն.

- | | |
|--------------|------------|
| 1) Իրաք | 5) Ավստրիա |
| 2) Բրազիլիա | 6) Դանիա |
| 3) Հունաստան | 7) Թուրքիա |
| 4) Բուլղարիա | 8) Մոլդովա |

61

Գրել այն ջրէկների համարները, որոնք չեն մտնում Սևան-Հրազդան կասկադի մեջ.

- | | |
|-------------|------------|
| 1) Արզնիի | 5) Արգելի |
| 2) Շամբի | 6) Երևանի |
| 3) Քանաքեռի | 7) Այրումի |
| 4) Տաթևի | 8) Սևանի |

62

Արաքսի ձախակողմյան տրված վտակների համարները դասավորել դրանց ջրառատության նվազման կարգով:

- | | | |
|-------------|---------|------------|
| 1) Ախուրյան | 2) Արփա | 3) Հրազդան |
|-------------|---------|------------|

63 ՀՀ տրված լճերի համարները դասավորել հյուսիսից հարավ հաջորդականությամբ.

- 1) Արփի 2) Սև 3) Քարի

(64-65) Աշտարակ քաղաքում օրվա ընթացքում չափել են օդի ջերմաստիճանը և ստացել են -1° , -4° , -6° , -2° , $+7^{\circ}$, $+16^{\circ}$, $+10^{\circ}$, $+4^{\circ}$ C° ցուցանիշները:

64 Որոշել օդի ջերմաստիճանի տատանման օրական լայնույթը (ամպլիտուդ):

65 Որոշել օդի օրական միջին ջերմաստիճանը:

66 Վայրի աշխարհագրական կոորդինատներն են՝ հս.լ. $35^{\circ}30'$ և արմ.ե. 80° :
Որոշել Արեգակի ճառագայթների անկման անկյունը դեկտեմբերի 22-ի կեսօրին:

67

Որոշել միևնույն միջօրեականի վրա գտնվող երկու կետերի միջև հեռավորությունը (կմ-ով), եթե դրանցից մեկը հս.լ. 18° -ի վրա է, իսկ մյուսը՝ հվ. լ. 35° -ի:

68

Երկրի բնակչության թիվը 4,8 մլն մարդ է, բնակչության միջին խտությունը՝ 60 մարդ/կմ²: Որքա՞ն է երկրի տարածքի մակերեսը:

69

Մեծ Բրիտանիայի վերաբերյալ տրված պնդումներից որո՞նք են ճիշտ, որո՞նք՝ սխալ.

- 1) Արդյունաբերության ավանդական ճյուղերից է թեթև արդյունաբերությունը:
- 2) Գյուղատնտեսության առաջատար ճյուղը բուսաբուծությունն է:
- 3) ՀՆԱ-ի մեծությամբ առաջինն է Հյուսիսային Եվրոպա տարածաշրջանում:
- 4) Տնտեսությունը զարգացման ինդուստրիալ փուլում է:
- 5) Հարուստ է նավթի պաշարներով:
- 6) Էլեկտրաէներգիայի մեծ մասը բաժին է ընկնում աեկներին:

70

ՀՀ Շիրակի մարզի վերաբերյալ տրված պնդումներից որո՞նք են ճիշտ, որո՞նք՝ սխալ.

- 1) Շիրակի դաշտը ՀՀ-ում ծխախոտի մշակության գլխավոր շրջաններից է:
- 2) Մարզի ընդերքում կան պեմզայի, տուֆի և գորշ ածխի պաշարներ:
- 3) ՀՀ խաղողագործական չորս շրջաններից մեկն է:
- 4) Խոզաբուծությունը թույլ է զարգացած:
- 5) Թեթև արդյունաբերության ենթաճյուղերից առավել զարգացած է տեքստիլը:
- 6) ՀՀ շաքարի միակ գործարանը Ախուրյանում է: