

ՄԻԱՄՆԱԿԱՆ ՔՆՆՈՒԹՅՈՒՆ

2022

ԱՇԽԱՐՀԱԳՐՈՒԹՅՈՒՆ

ԹԵՍՏ 2

Խմբի համարը

Նստարանի համարը

Հարգելի՛ դիմորդ

Խորհուրդ ենք տալիս առաջադրանքները կատարել ըստ հերթականության: Ուշադիր կարդացե՛ք յուրաքանչյուր առաջադրանք և պատասխանների առաջարկվող տարբերակները: Եթե Ձեզ չի հաջողվում որևէ առաջադրանքի անմիջապես պատասխանել, ժամանակը խնայելու նպատակով կարող եք այն բաց թողնել և դրան անդրադառնալ ավելի ուշ:

Ձեր առջև դրված թեստ-գրքույկի էջերի դատարկ մասերը ազատորեն կարող եք օգտագործել սևագրության համար: ***Թեստ-գրքույկը չի ստուգվում: Ստուգվում է միայն պատասխանների ձևաթուղթը:***

Առաջադրանքները կատարելուց հետո չմոռանաք պատասխանները ուշադիր և խնամքով նշել պատասխանների ձևաթղթում: Պատասխանների ձևաթղթի ճիշտ լրացումից է կախված Ձեր քննական միավորը:

Մաղթում ենք հաջողություն:

1

Աշխարհագրական թաղանթի համեմատաբար ոչ մեծ տարածք զբաղեցնող տեղամասերը՝ բնատարածքային համալիրները, դրանց առաջացումը, կառուցվածքը և փոփոխություններն ուսումնասիրող գիտություն է.

- 1) երկրաձևաբանությունը
- 2) հնեաշխարհագրությունը
- 3) կլիմայագիտությունը
- 4) լանդշաֆտագիտությունը

2

Տեղանքում կարելի է կողմնորոշվել ծառերի.

- 1) արմատներով
- 2) տերևների մեծությամբ
- 3) տարեկան օղակներով
- 4) տերևների գույնով

3

Հորիզոնի n° կողմի ազիմուտն է 90° :

- 1) արևմտյան
- 2) հարավային
- 3) արևելյան
- 4) հյուսիսային

4

Ո՞ր պնդումն է ճիշտ:

- 1) Հատակագծում ռելիեֆը պատկերվում է իզոբարերի օգնությամբ:
- 2) Հատակագիծն ունի միջին մասշտաբ:
- 3) Հատակագիծը պատկերում է մեծ տարածք:
- 4) Հատակագիծը չունի միջօրեականներ և գուգահեռականներ:

5

Բնութագրումով որոշել վարկածը.

Ելակետ ընդունելով այդ վարկածը՝ գիտնականները եզրակացնում են, որ Երկրի վրա կուտակված հսկայածավալ ջուրն արտահոսել է ընդերքից, Երկրի տաքացումը՝ սկսվել կենտրոնից: Ո՞րն է այդ վարկածը

- 1) խորքային գրավիտացիոն
- 2) միգամածային
- 3) երկնաքարային
- 4) պատահարային

6

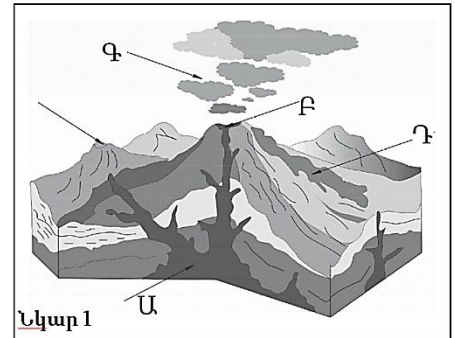
Ո՞ր պնդումն է ճիշտ:

- 1) Տոկիոյի գոտիական ժամանակն առաջ է Երևանի գոտիական ժամանակից:
- 2) Օրվա նույն ժամը կարող է լինել միայն նույն գուգահեռականի վրա:
- 3) Միջօրեականի վրա տվյալ պահին դիտված ժամանակը կոչվում է դեկրետային ժամանակ:
- 4) Ամսաթվի փոփոխման գիծն անցնում է գլխավոր միջօրեականով:

7

Նկար 1-ում ո՞ր տառով է նշված հրաբխի խառնարանը:

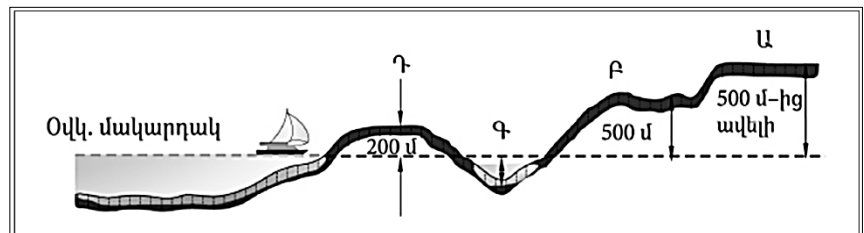
- 1) Դ
- 2) Ա
- 3) Բ
- 4) Գ



8

Նկար 2-ում ո՞ր հարթավայրն է նշված Ա տառով:

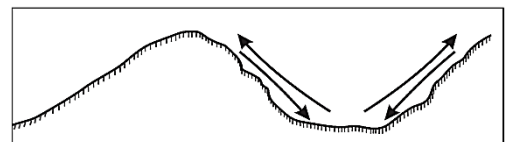
- 1) դաշտավայր
- 2) սարահարթ
- 3) բարձրավայր
- 4) ցածրավայր



9

Ո՞ր քամիներն են պատկերված նկար 3-ում:

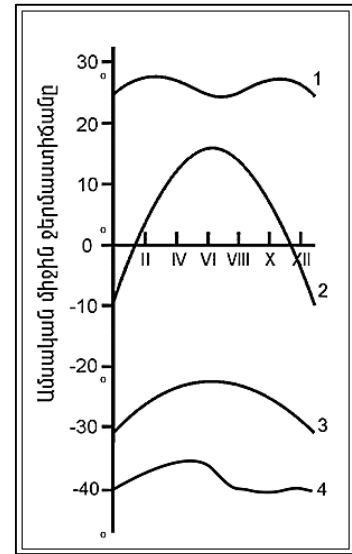
- 1) լեռնահովտային քամիներ
- 2) բրիզներ
- 3) մուսսոններ
- 4) պասսատներ



10

Նկար 4-ում n° թվով է նշված օդի ջերմաստիճանի տարեկան ընթացքի կորը հասարակածային լայնություններում:

- 1) 4
- 2) 1
- 3) 2
- 4) 3



Նկար 4

11

Համաշխարհային օվկիանոսի վերաբերյալ n° պնդումն է ճիշտ:

- 1) Լուսնի ձգողական ուժի հետևանքով օրական երկու անգամ օվկիանոսի ջրի մակարդակի իջեցումը կոչվում է տեղատվություն:
- 2) Օվկիանոսի այն հատվածը, որը ներթափանցել է ցամաքի մեջ, կոչվում է նեղուց:
- 3) Առավել մեծ աղիություն ունեն հասարակածային գոտու ջրերը:
- 4) Ցունամիի առաջացման հիմնական պատճառը մշտական ուղղություն ունեցող քամիներն են:

12

Գետի ակունքի բացարձակ բարձրությունը 2200 մ է, գետաբերանինը՝ 1000 մ, երկարությունը՝ 150 կմ: Գետի թեքությունը կլինի.

- 1) 8 մ/կմ
- 2) 12 մ/կմ
- 3) 6 մ/կմ
- 4) 15 մ/կմ

13

Աշխարհագրական թաղանթը մթնոլորտում տարածվում է.

- 1) մինչև ջերմոլորտ
- 2) մինչև ներքնոլորտ
- 3) մինչև վերնոլորտ
- 4) մինչև օզոնի շերտ

14

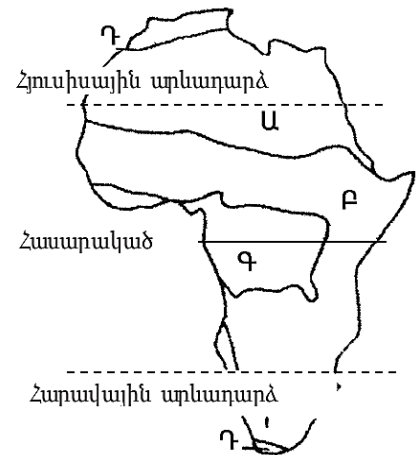
Մեկ խորանարդ մետր օդում պարունակվող ջրային գոլորշիների քանակը՝ արտահայտված գրամներով, կոչվում է.

- 1) բացարձակ խոնավություն
- 2) հազեցած օդ
- 3) հարաբերական խոնավություն
- 4) չհազեցած օդ

15

Նկար 5-ում n° թվով է պատկերված միջերկրածովային մշտականաչ կոշտատերև անտառների և թփուտների զոնան:

- 1) Դ
- 2) Ա
- 3) Բ
- 4) Գ



16

Մավանաների բնական զոնան հիմնականում n° ը հողերի վրա է տարածվում:

- 1) դարչնագույն
- 2) լատերիտային
- 3) կարմրագորշ
- 4) պողգոլային

17

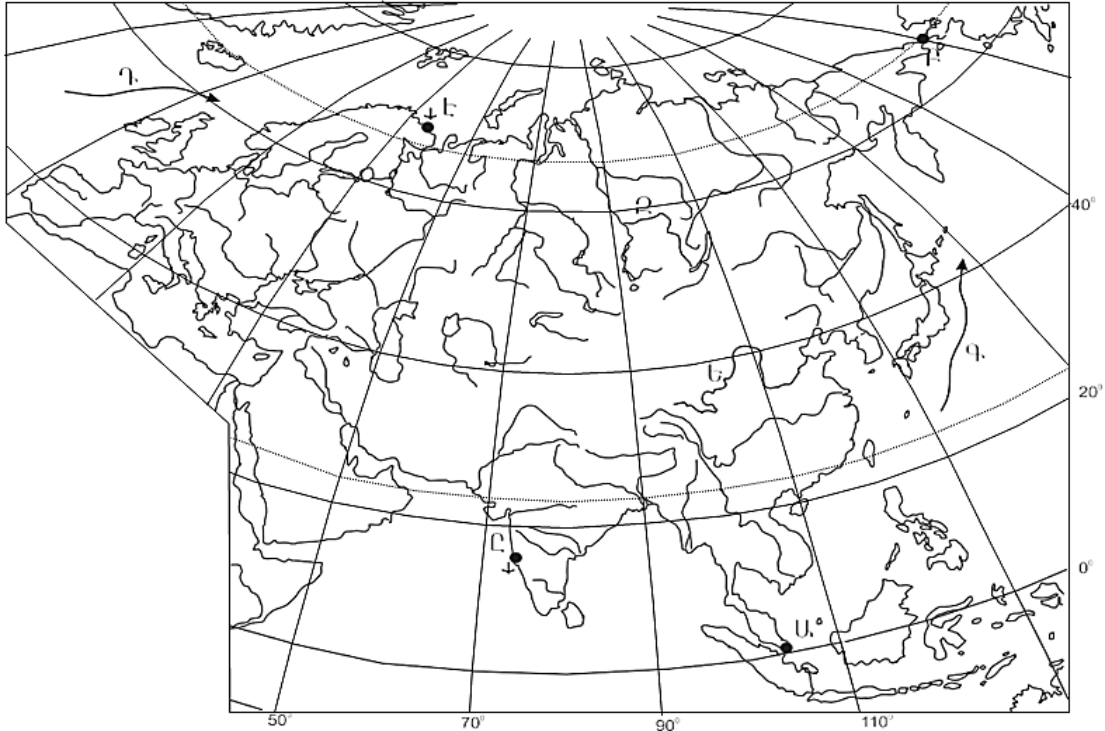
Քարտեզ 1-ում Դ տառով n° ը ծովային հոսանքն է նշված:

- 1) Հարավպասսատային
- 2) Կուրոսիո
- 3) Հյուսիսատլանտյան
- 4) Օյասիո

18

Քարտեզ 1-ում Շ տառով ո՞ր նավահանգիստն է նշված:

- 1) Մումբայ
- 2) Չենայ
- 3) Կարաչի
- 4) Ադեն



Քարտեզ 1

19

Աֆրիկայի վերաբերյալ պնդումներից ո՞րն է ճիշտ:

- 1) Կանարյան սառը հոսանքը մեծ դեր է խաղացել Սահարա անապատի առաջացման գործում:
- 2) Արևմուտքում գտնվող Կամերուն գործող հրաբուխը մայրցամաքի ամենախոնավ շրջանն է:
- 3) Կլիման ձևավորող գլխավոր գործոնը ռելիեֆն է:
- 4) Մայրցամաքի վրա ձևավորվում է մթնոլորտային ճնշման չորս մարզ՝ երկու բարձր, երկու ցածր:

20

Ո՞ր գետը դելտա չի առաջացնում:

- 1) Նիգեր
- 2) Օրանժ
- 3) Կոնգո
- 4) Նեղոս

21 Ո՞ր պնդումն է ճիշտ.

- 1) Հյուսիսային Ամերիկայում ամենամեծ տարածում ունի անապատների և կիսաանապատների զոնան:
- 2) Հյուսիսային Ամերիկայի հյուսիսային մասի մակերևույթի ձևավորման վրա մեծ ազդեցություն են թողել սառցադաշտերը:
- 3) Հյուսիսային Ամերիկյան Գրենլանդիայից բաժանվում է Բերինգի նեղուցով:
- 4) Հյուսիսային Ամերիկայում Միսսուրի գետը հորդանում է ձմռանը:

22 Հյուսիսային Ամերիկայում չեն ապրում.

- 1) որմզդեղն ու բիզոնը
- 2) լաման ու նանդու ջայլամը
- 3) կարիբուն ու խոյացույր
- 4) սպիտակ արջն ու լեմինգը

23 Ո՞ր պնդումն է սխալ:

- 1) Լա Պլատայի դաշտավայրը շատ հարուստ է ոսկու պաշարներով:
- 2) Անդերը հարուստ է հատկապես պղնձի պաշարներով:
- 3) Բրազիլական և Գվիանական սարահարթերի հնագույն հիմքի բյուրեղային ապարները հարուստ են երկաթի և մանգանի պաշարներով:
- 4) Կարիբյան ծովի ափերին կան նավթի հարուստ պաշարներ:

24 Ո՞ր գետը Հարավային Ամերիկայում չէ:

- 1) Օրինկո
- 2) Ամազոն
- 3) Հուանիե
- 4) Պարանա

25 Ո՞ր ծովը Ավստրալիայի ափերը չի ողողում:

- 1) Արաֆուրյան
- 2) Բաֆինի
- 3) Կորալյան
- 4) Թասմանի

26

Ո՞ր պնդումն է սխալ:

- 1) Անտարկտիդան Հրո երկիր կղզեխմբից բաժանվում է Դրեյկի լայն ու փոթորկոտ նեղուցով:
- 2) Անտարկտիկան մայրցամաք է, իսկ Անտարկտիդան՝ աշխարհամաս:
- 3) Անտարկտիդային ամենամոտ մայրցամաքը Հարավային Ամերիկան է:
- 4) Ատարկտիդան ամբողջությամբ ընկած է հարավային բևեռային շրջագծի և Հարավային բևեռի միջև:

27

Քաղաքական քարտեզի ձևավորման նորագույն ժամանակաշրջանի երկրորդ փուլի կարևոր իրադարձությունն է.

- 1) ԽՍՀՄ-ի փլուզումը
- 2) ՆԱՏՕ-ի և ՎՊԵ-ի ստեղծումը
- 3) ԽՍՀՄ-ի կազմավորումը
- 4) ԱՄՆ-ի կազմավորումը

28

Ո՞ր պնդումն է սխալ:

- 1) Աշխարհագրական (աստղագիտական) սահմանը կարող է համընկնել այս կամ այն միջօրեականի կամ զուգահեռականի հետ:
- 2) Սահմանարկումը տեղանքում պետական սահմանի անցկացումն է, նրա աշխարհագրական կոորդինատների որոշումը, սահմանանշանների միջոցով սահմանագծի անցկացումը:
- 3) Լեռնագրական սահմանները գլխավորապես անցնում են բնական սահմաններով, հիմնականում՝ լեռնաշղթաներով ու գետերի հունով:
- 4) Երկրաչափական սահմանն ուղիղ գիծ է, որը միացնում է պետական սահմանի որոշակի կետեր՝ առանց հաշվի առնելու տեղանքի ռելիեֆային պայմանները:

29

Ո՞ր պնդումն է ճիշտ.

- 1) Աշխարհի երկրների ճնշող մեծամասնության վարչատարածքային կառուցվածքը դաշնային է:
- 2) Միապետություններում երկրի օրենսդիր ու գործադիր իշխանությունների գործունեությունը ղեկավարում է նախագահը:
- 3) Միասնական պետության վարչատարածքային միավորներն ունեն որոշակի քաղաքական ինքնավարություն:
- 4) Խորհրդարանական հանրապետությունում երկրի նախագահն ընտրվում է ոչ թե ժողովրդի, այլ խորհրդարանի կողմից:

30

Ընտրել պետությունների ճիշտ շարքն՝ ըստ դրանց տարածքի մակերեսի աճման հաջորդականության.

- 1) Կանադա, Չինաստան, ԱՄՆ, Բրազիլիա
- 2) Բրազիլիա, Ավստրալիա, Սուդան, Ղազախստան
- 3) ԱՄՆ, Չինաստան, Կանադա, Ռուսաստան
- 4) Հնդկաստան, Բրազիլիա, Ավստրալիա, Կանադա

31 Ո՞ր երկիրն ունի 100 մլն-ից պակաս բնակիչ

- 1) Ճապոնիա
- 2) Պակիստան
- 3) Գերմանիա
- 4) Հնդկաստան

32 Բնակչության շարժի հետևանքով սերունդների հերթափոխման գործընթացը կոչվում է.

- 1) բնակչության մեխանիկական շարժ
- 2) բնակչության կազմ
- 3) բնակչության բնական աճ
- 4) բնակչության վերարտադրություն

33 Կյանքի միջին տևողությունը առավելապես պայմանավորված չէ.

- 1) բարձր մահացությամբ
- 2) բնակչության ցածր կենսամակարդակով
- 3) բուժսպասարկման մակարդակով
- 4) միգրացիայի ինտենսիվությամբ

34 Հնդկվրոպական լեզվաընտանիքի լեզվախումբ է.

- 1) իրանականը
- 2) չինականը
- 3) թուրքականը
- 4) սեմականը

35 Ո՞ր պնդումն է ճիշտ.

- 1) Ջրաէլեկտրակայանները հիմնականում կառուցվում են հարթավայրային գետերի վրա:
- 2) Աէկներն ապահովում են աշխարհում արտադրվող էլեկտրաէներգիայի կեսից ավելին:
- 3) Ծանր գունավոր մետաղների ձուլումը կոմունորոշվում է դեպի հումքի բազաները:
- 4) Պողպատի ձուլման ձեռնարկությունները կառուցվում են գիտական կենտրոնների մոտ:

36 Նյութական արտադրության ո՞ր ճյուղն է առավել աշխատատար ու գիտատար և տեղաբաշխված խոշոր քաղաքներում:

- 1) մեքենաշինություն
- 2) վառելիքի արդյունահանում
- 3) էլեկտրաէներգետիկա
- 4) սննդի արդյունաբերություն

37

«Հանքավայր-հանքատեսակ» գույգերից ընտրել ճիշտը.

- 1) Մամուլոր-նավթ
- 2) Սուրգուտ-ածուխ
- 3) Մագադան-գազ
- 4) Նորիլսկ-երկաթ

38

Ընտրել «պետություն-մայրաքաղաք» համապատասխանությունների ճիշտ շարքը:

- | | |
|--------------|---------------|
| 1. Ուկրաինա | ա. Բրատիսլավա |
| 2. Բուլղարիա | բ. Սոֆիա |
| 3. Սլովակիա | գ. Բուխարեստ |
| 4. Ռումինիա | դ. Կիև |

- 1) 1-դ, 2-գ, 3-բ, 4-ա
- 2) 1-բ, 2-ա, 3-դ, 4-գ
- 3) 1-գ, 2-դ, 3-բ, 4-ա
- 4) 1-դ, 2-բ, 3-ա, 4- գ

39

Կենտրոնական Ասիայի տրված պետություններից ո՞րը չունի սահման Չինաստանի հետ:

- 1) Ղրղզստան
- 2) Ուզբեկստան
- 3) Տաջիկստան
- 4) Ղազախստան

40

«Մշակաբույս-մշակող առաջատար երկիր» գույգերից ընտրել ճիշտը:

- 1) կակաո-Ալժիր
- 2) գետնանուշ-Թունիս
- 3) մանիոկ-Նիգերիա
- 4) սուրճ-Մարոկկո

41

Ո՞ր կղզեխումբն է գտնվում Օվկիանիայում:

- 1) Կուրիլյան
- 2) Ֆիլիպիններ
- 3) Պոլինեզիա
- 4) Ճապոնական

42

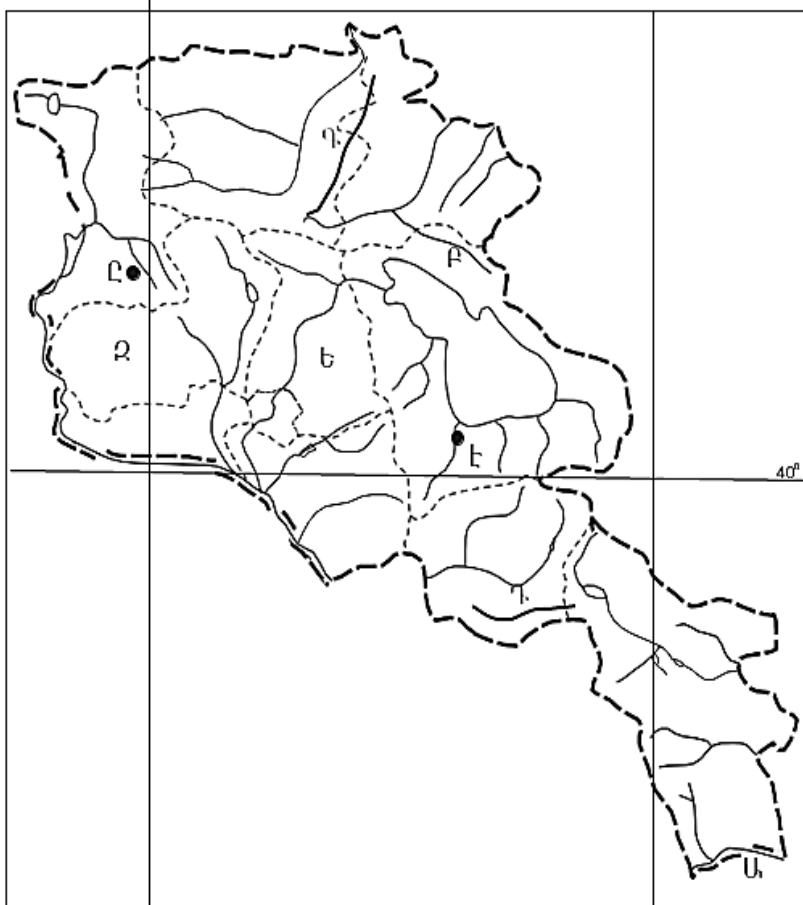
Ո՞ր քաղաքն է ԱՄՆ-ի ավտոմոբիլաշինության գլխավոր կենտրոնը:

- 1) Հյուսթոն
- 2) Լոս Անջելես
- 3) Դեթրոյթ
- 4) Նյու Յորք

43

Լատինական Ամերիկայում խոշոր եղջերավոր անասնապահության զարգացմամբ ո՞ր երկիրն է առաջատար:

- 1) Վենեսուելա
- 2) Պարագվայ
- 3) Արգենտինա
- 4) Ուրուգվայ



Քարտեզ 2

44

Քարտեզ 2-ում Արիպա գետը ո՞ր տառով է նշված.

- 1) Ը
- 2) Է
- 3) Բ
- 4) Դ

45

Քարտեզ 2-ում Արագածոտնի մարզը ո՞ր տառով է նշված.

- 1) Ե
- 2) Զ
- 3) Ա
- 4) Գ

46

Լեռնագրական ո՞ր մարզը Միջնաշխարհի մեջ չի մտնում.

- 1) միջլեռնային գոգավորություններ
- 2) Փոքր Կովկաս
- 3) Հայկական հրաբխային բարձրավանդակ
- 4) Ներքին Տավրոս

47

ՀՀ Լոռու մարզի վերաբերյալ ո՞ր պնդումն է ճիշտ.

- 1) Ամենափոքր քաղաքը Տաշիրն է:
- 2) Բնակչության թվաքանակով զիջում է միայն Սյունիքի մարզին:
- 3) Քաղաքների թվով հանրապետությունում առաջինն է՝ ութ քաղաք:
- 4) Ամենացածրադիր քաղաքը Վանաձորն է:

48

Արդյունաբերական հանգույցներ են եղել.

- 1) Միսիան և Գորիս
- 2) Մարտունի և Վարդենիս
- 3) Սևան և Գավառ
- 4) Գյումրի և Վանաձոր

49

Սյունիքի մարզի վերաբերյալ ո՞ր պնդումն է ճիշտ.

- 1) Հողածածկույթում բացակայում են լեռնային սևահողերը:
- 2) Հողածածկույթում տիրապետում են կիսաանապատային գորշ հողերը:
- 3) Հարավում տարածվում են աղուտներ:
- 4) Հողաբուսական ծածկույթը ենթարկվում է վերընթաց գոտիականության:

50

ԼՂՀ –ի (Արցախի Հանրապետություն) վերաբերյալ ո՞ր պնդումն է սխալ.

- 1) Տեխնիկական մշակաբույսերից առավել տարածված է շաքարի ճակնդեղը:
- 2) Գյուղատնտեսության առաջատար ճյուղերն են հացահատիկի մշակությունն ու այգեգործությունը:
- 3) Թզենին և նոնենին առավել լավ հարմարվել են ցածրադիր շրջաններին:
- 4) Խաղողագործությունն առավել զարգացած է նախալեռնային գոտում:

51

Բնական և մարդածին այն օբյեկտները, որոնք ունեն եզակիություն, պատմական կամ գեղարվեստական արժեք, գեղագիտական գրավչություն, առողջարարական-կազդուրիչ նշանակություն և կարող են օգտագործվել հանգստի ու զբոսաշրջության կազմակերպման համար, կոչվում են.

- 1) կենսաբանական ռեսուրսներ
- 2) հողային ռեսուրսներ
- 3) ռեկրեացիոն ռեսուրսներ
- 4) հանքային ռեսուրսներ

52

ՀՀ մարմարի հետախուզված պաշարները կազմում են մոտ 21 մլն մ³, իսկ բնակչության թիվը՝ 3,2 մլն մարդ (2001 թ.): Մոտավորապես որքա՞ն կկազմի ռեսուրսաապահովվածությունը 1 բնակչի հաշվով:

- 1) 8,4 մ³/մարդ
- 2) 5,7 մ³/մարդ
- 3) 6,6 մ³/մարդ
- 4) 7,2 մ³/մարդ

53

Շրջակա միջավայրի վրա առավել շատ բացասական ազդեցություն է թողնում.

- 1) պղնձաձուլությունը
- 2) կարի արտադրությունը
- 3) սարքաշինությունը
- 4) կոնյակի արտադրությունը

54

Կենդանիների պահպանության միջոցառում է.

- 1) առաջավոր ագրոտեխնիկայի կիրառումը
- 2) արոտաշրջանառությունը
- 3) ճահիճների և ճահճակալած հողերի չորացումը
- 4) կլիմայավարժեցումը

55

Ո՞ր պնդումն է ճիշտ

- 1) Օզոնային շերտի քայքայումը բնորոշ է միայն բարեխառն գոտուն:
- 2) Ջերմոցային էֆեկտը պայմանավորված է մթնոլորտում մեթանի և ածխաթթու գազի քանակի ավելացմամբ:
- 3) Օդում մեծ քանակությամբ փոշու առկայության պատճառով խոշոր քաղաքներում օդի ջերմաստիճանն ավելի ցածր է, քան դրանցից դուրս:
- 4) Թթվային անձրևների առաջացման միակ պատճառը Արեգակի ուլտրամանուշակագույն ճառագայթներն են:

56

Տրված են աշխարհի նշանավոր լճեր: Գրել սառցադաշտային ծագում ունեցող լճերը

- | | |
|--------------|-------------------|
| 1) Ինարի | 5) Մեծ աղի |
| 2) Կասպից | 6) Մեծ ստրուկների |
| 3) Իսիկ Կուլ | 7) Մեռյալ |
| 4) Վեներն | 8) Մեծ արջի |

57

Գրել այն երկրների համարները, որոնք ներգամաքային են (ելք չունեն դեպի ծով).

- | | |
|------------|-------------|
| 1) Լիբանան | 5) Չեխիա |
| 2) Եգիպտոս | 6) Պարագվայ |
| 3) Չադ | 7) Մեքսիկա |
| 4) Պերու | 8) Ավստրիա |

58

Գրել այն երկրների համարները, որոնք առաջատար են ոչխարաբուծությամբ.

- | | |
|-----------------|--------------|
| 1) Ճապոնիա | 5) Իրան |
| 2) Կանադա | 6) Արգենտինա |
| 3) Գերմանիա | 7) Ուկրաինա |
| 4) Նոր Զելանդիա | 8) Լեհաստան |

59

Գրել այն երկրների համարները, որոնք թերակղզային են.

- | | |
|--------------------|----------------|
| 1) Սաուդյան Արաբիա | 5) Պորտուգալիա |
| 2) Արգենտինա | 6) Կոլումբիա |
| 3) Ճապոնիա | 7) Իտալիա |
| 4) Նիդերլանդներ | 8) Ֆրանսիա |

60

Գրել այն երկրների համարները, որոնք ունեն անցումային տնտեսություն.

- | | |
|--------------|------------|
| 1) Բրազիլիա | 5) Դանիա |
| 2) Հունաստան | 6) Թուրքիա |
| 3) Բուլղարիա | 7) Մոլդովա |
| 4) Ավստրիա | 8) Իրաք |

61

Գրել այն ջրէկների համարները, որոնք չեն մտնում Սևան-Հրազդան կասկադի մեջ.

- | | |
|-------------|------------|
| 1) Շամբի | 5) Երևանի |
| 2) Քանաքեռի | 6) Այրումի |
| 3) Տաթևի | 7) Սևանի |
| 4) Արգելի | 8) Արգնիի |

62

Արաքսի ձախակողմյան տրված վտակների համարները դասավորել դրանց ջրառատության նվազման կարգով:

- | | | |
|---------|------------|-------------|
| 1) Արփա | 2) Հրազդան | 3) Ախուրյան |
|---------|------------|-------------|

63

ՀՀ տրված լճերի համարները դասավորել հյուսիսից հարավ հաջորդականությամբ.

1) Սև

2) Քարի

3) Արփի

(64-65) Աշտարակ քաղաքում օրվա ընթացքում չափել են օդի ջերմաստիճանը և ստացել են -1° , -4° , -6° , -2° , $+7^{\circ}$, $+16^{\circ}$, $+10^{\circ}$, $+4^{\circ}$ C° ցուցանիշները:

64

Որոշել օդի ջերմաստիճանի տատանման օրական լայնույթը (ամպլիտուդ):

65

Որոշել օդի օրական միջին ջերմաստիճանը:

66

Վայրի աշխարհագրական կոորդինատներն են՝ հս.լ. $35^{\circ}30'$ և արմ.ե. 80° :
Որոշել Արեգակի ճառագայթների անկման անկյունը դեկտեմբերի 22-ի կեսօրին:

67

Որոշել միևնույն միջօրեականի վրա գտնվող երկու կետերի միջև հեռավորությունը (կմ-ով), եթե դրանցից մեկը հս.լ. 18°-ի վրա է, իսկ մյուսը՝ հվ. լ. 35°-ի:

68

Երկրի բնակչության թիվը 4,8 մլն մարդ է, բնակչության միջին խտությունը՝ 60 մարդ/կմ²: Որքա՞ն է երկրի տարածքի մակերեսը:

69

Մեծ Բրիտանիայի վերաբերյալ տրված պնդումներից որո՞նք են ճիշտ, որո՞նք՝ սխալ.

- 1) Գյուղատնտեսության առաջատար ճյուղը բուսաբուծությունն է:
- 2) ՀՆԱ-ի մեծությամբ առաջինն է Հյուսիսային Եվրոպա տարածաշրջանում:
- 3) Տնտեսությունը զարգացման ինդուստրիալ փուլում է:
- 4) Հարուստ է նավթի պաշարներով:
- 5) Էլեկտրաէներգիայի մեծ մասը բաժին է ընկնում աէկներին:
- 6) Արդյունաբերության ավանդական ճյուղերից է թեթև արդյունաբերությունը:

70

ՀՀ Շիրակի մարզի վերաբերյալ տրված պնդումներից որո՞նք են ճիշտ, որո՞նք՝ սխալ.

- 1) Մարզի ընդերքում կան պեմզայի, տուֆի և գորշ ածխի պաշարներ:
- 2) ՀՀ խաղողագործական չորս շրջաններից մեկն է:
- 3) Խոզաբուծությունը թույլ է զարգացած:
- 4) Թեթև արդյունաբերության ենթաճյուղերից առավել զարգացած է տեքստիլը:
- 5) ՀՀ շաքարի միակ գործարանը Ախուրյանում է:
- 6) Շիրակի դաշտը ՀՀ-ում ծխախոտի մշակության գլխավոր շրջաններից է: